

١-٦ ١ جهاز النقل في النبات Transport system in plant :

لماذا جهاز النقل في النبات أبطأ من الحيوانات ؟

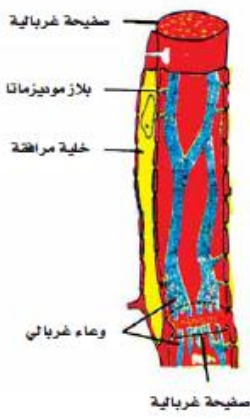
تمتلك النباتات جهازاً للنقل أبطأ من جهاز النقل في الحيوانات لأنها تستخدم طاقة أقل بكثير منها، وتتأثر سرعة النقل بالعديد من العوامل البيئية كالحرارة وشدة الإضاءة، وسرعة الرياح وغيرها.

ويتكون جهاز النقل في النبات من مجموعة من الأوعية الناقلة المنتظمة في مجموعة من الحزم والأنسجة، أهمها نسيجي الخشب واللحاء اللذان يشكلان ما يسمى الجهاز الوعائي بالنبات أو الحزم الوعائية.

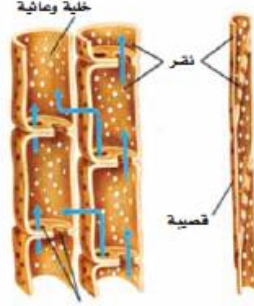
(٢) نسيج اللحاء phloem tissue :	(١) نسيج الخشب xylem tissue :
<p>يختص نسيج اللحاء بنقل الغذاء الجاهز من الأوراق إلى جميع أجزاء النبات، ويتكون نسيج اللحاء من:</p> <p>(أ) الأنابيب الغربالية: ويتكون الأنبوب الغربالي من اتحاد عدد كبير من الخلايا الغربالية المتراسة طولياً، وجدرها العرضية مثقبة تعرف بالصفائح الغربالية لتسمح بمرور المواد الغذائية فيما بينها، وتفقد الخلايا الغربالية أنويتها بعد نضجها وتبقى ممتلئة بعدد كبير من الخيوط السيتوبلازمية الممتدة عبر ثقوب الصفائح الغربالية.</p> <p>(ب) الخلايا المرافقة: عبارة عن خلايا حية بنواة واضحة وعضيات كاملة، وتتصل بالخلايا الغربالية المجاورة بواسطة خيوط سيتوبلازمية تعرف بالبلازموديماتا حيث تزودها بالطاقة اللازمة لنشاطها.</p> <p>(ج) خلايا برنشيمية وألياف:</p> <p>وبالرغم من وجود النسيج الوعائي بكل موضع في النبات فإن ترتيبه يكون مختلف في السيقان والجذور، ففي الجذور يكون النسيج الوعائي اسطوانة مركزية في مركز الجذر حيث يكون قلباً (لباً) مصمتاً في مركز الجذر في النباتات ذو الفلقتين، أما في النباتات ذات الفلقة الواحدة فيكون النسيج الوعائي عبارة عن حلقة تحيط بالمنطقة المركزية من الخلايا التي تسمى النخاع.</p> <p>أما في السيقان فيكون النسيج الوعائي مرتباً في حزم وعائية حيث تكون هذه الحزم الوعائية مبعثرة بجميع أرجاء النسيج الأساسي في نباتات الفلقة الواحدة بينما تكون الحزم الوعائية حلقة تقسم النسيج الأساسي إلى قشرة ونخاع في نباتات الفلقتين.</p>	<p>ويختص نسيج الخشب بنقل الماء والأملاح من الجذر إلى جميع أجزاء النبات ويتكون نسيج الخشب من:</p> <p>(أ) الأوعية الخشبية: وهي عبارة عن أنابيب تتكون الواحدة منها من صف رأسي من الخلايا الطويلة التي تلاشى منها السيتوبلازم وجدرها العرضية وشكلت وعاءاً واحداً مجوفاً وترسبت على جدرها مادة اللجنين بحيث يتلاءم شكلها مع وظيفتها.</p> <p>(ب) القصيبات: خلايا مغزلية الشكل، مغلظة الجدر، يتصل بعضها بعضاً بواسطة نقر خاصة ينفذ خلالها الماء من خلية لأخرى مجاورة.</p> <p>(ج) مجموعة من خلايا برنشيمية وألياف: ترافق أوعية الخشب والقصيبات فتقويها وتدعمها.</p>

النقل في النبات

الفصل السادس



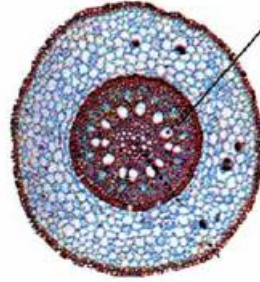
الشكل (٦-٢) : نسيج اللحاء في النبات




الشكل (٦-١) : نسيج الخشب في النبات



الأنسجة الوعائية

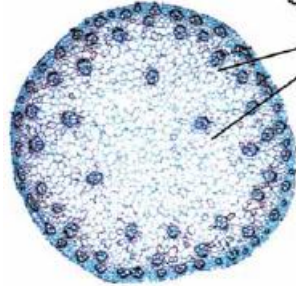


قطاع عرضي
للأنسجة الناقلة في جذر ذوقفة

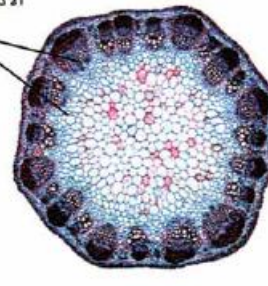


قطاع عرضي
للأنسجة الناقلة في جذر ذوقفتين

الأنسجة الوعائية



قطاع عرضي



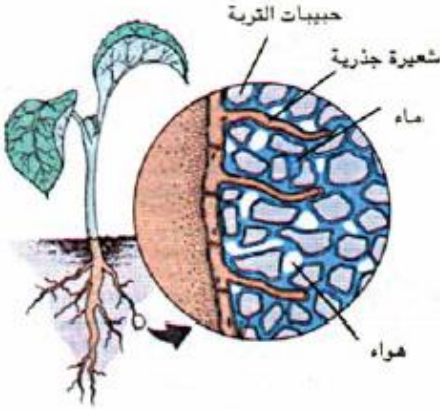
قطاع عرضي

٦-٢ الإمتصاص والنقل في الجذر : Absorption and Transport in root

ماعلاقة الماء بالأملاح في النبات ؟

للماء والأملاح أهمية كبيرة في حياة النبات، فالماء مذيب جيد تتم فيه معظم تفاعلات الخلية الحية، ويعمل دعامة للنبات عن طريق ضغط الامتلاء، وكذلك يمثل الماء وسطاً ناقلاً للأملاح الممتصة ونواتج عملية البناء الضوئي، ويساعد الماء في تنظيم درجة حرارة النبات، أما الأملاح فتدخل في بناء المركبات العضوية في النبات وفي أنشطته الحيوية المختلفة.

امتصاص الماء Water absorption



كيف يتم امتصاص الماء في النبات ؟

تمتص أغلب النباتات الماء عن طريق الجذور، وفي النباتات الراقية تتم معظم عملية الإمتصاص عند قمم الجذور بواسطة الشعيرات الجذرية التي هي عبارة عن استطالة لخلايا البشرة في الجذر والتي تكون مهيأة للإمتصاص إذ بها جدار سليولوزي رقيق وفجوة عصارية كبيرة تحتوي على عصير خلوي ضغطة الأسموزي أعلى من الضغط الأسموزي لمحلول التربة وتوفر الشعيرة الجذرية سطحاً ماصاً. ويدخل الماء في التربة إلى الشعيرة الجذرية بواسطة الخاصية الأسموزية.

كيف يتم إمتصاص الماء عند كثرة أو قلته المياه ؟

تعتمد كمية الماء الممتصة عن طريق الجذر على المحتوى المائي للتربة، فعندما تحتوي التربة على كمية كبيرة من الماء فإنه يتم امتصاص الماء كثيراً بواسطة الجذر، أما في أثناء الجفاف فإن التربة تكون شحيحة بالماء وبالتالي يمتص الماء بدرجة أقل.

أفتر فهورك ١

لماذا تموت بعض النباتات عند زراعتها في تربة مالحة أو عند سقيتها بماء مالح ؟

امتصاص الأملاح المعدنية mineral absorption

إشراحتصاص النباتللأملاح المعدنية .

يقوم النبات بامتصاص الأملاح الذائبة في الماء، ويختلف امتصاص الأملاح عن امتصاص الماء، فامتصاص الماء عملية فيزيائية بينما امتصاص الأملاح عملية كيميائية انتقائية تستهلك الطاقة.

وعملية الامتصاص للأملاح عملية نشطة حيث إنها لو كانت بالانتشار لانتقلت كل الأملاح من الخلايا إلى التربة لأن تركيزها في الخلايا أعلى. وتوجد الأملاح على شكل أيونات، ويتوقف امتصاص الأملاح على نسبة استعمالها داخل النبات فأيون النترات يستعمل في بناء الأحماض الأمينية لذلك يقوم النبات بامتصاص المزيد منه

ماهي طرق النبات للامتصاص الأملاح ؟

(١) يتأين الماء ويحل أحد أيوناته محل الأيونات الممتصة

ويدخل الأيون الآخر مع الأيون الممتص.

(٢) تخرج من الخلية أيونات لها نفس الشحنة.

كم عملية تضمن لامتصاص أيونات الأملاح ؟

(١) تبادل الأيونات بين سطح الشعيرة الجذرية وبين محلول التربة.

(٢) امتصاص الأيونات عبر الغشاء البروتوبلازمي الحي للشعيرة الجذرية وهذا الامتصاص يتطلب طاقة ATP.

مما تستفيد النباتات من الكائنات المحللة ؟

تستفيد النباتات من الكائنات المحللةالفطريات للحصول على العناصر المعدنية من التربة والتي تحررها من أجسام الكائنات الميتة.

ومثال ذلك :

تدخل أيونات البوتاسيوم من ملح نترات البوتاسيوم KNO_3 بأحد الأشكال التالية:

(١) تدخل أيونات K^+ و NO_3^- بنفس الوقت.

(٢) تتأين بعض جزيئات الماء إلى H^+ ، HO^- وتتكون مركبات هي HNO_3 و KOH فعند دخول أيونات NO_3^- تبقى أيونات H^+ في الخارج لتحل محلها .

(٣) تدخل أيونات NO_3^- و K^+ عن طريق تبادل الأيونات بين الخلية وغرويات التربة ، فعند دخول NO_3^- مثلاً يخرج من الخلية أيون يحمل نفس الشحنة وهكذا .

إجابة اختبرهمك (١)

١- لأن عملية امتصاص الماء عملية فيزيائية تجري بواسطة الخاصية الأسموزية نتيجة فرق التركيز بينما امتصاص الأملاح عملية كيميائية تحتاج إلى الطاقة.

٢- لأنه عندما تنشع التربة بالماء فإن الأكسجين قد لا يصل إلى الجذور، وبالتالي لن نستطيع أن نتج الطاقة اللازمة لأداء الأنشطة الخلوية.

٣- لأن عملية امتصاص الأملاح تتم ضد قوة التركيز.

اختبر نفسك

- إذا سممت خلايا الجذر أو غلبت بالماء لا تستطيع امتصاص الأملاح المعدنية بينما تستمر في امتصاص الماء.حلل

- الري الزائد ربما كان مؤلماً للنباتات مثل عدم ريهاماء كاف.فسر ذلك؟

- لماذا يستخدم النبات النقل النشط في امتصاص الأملاح ولا يستخدم الانتشار؟

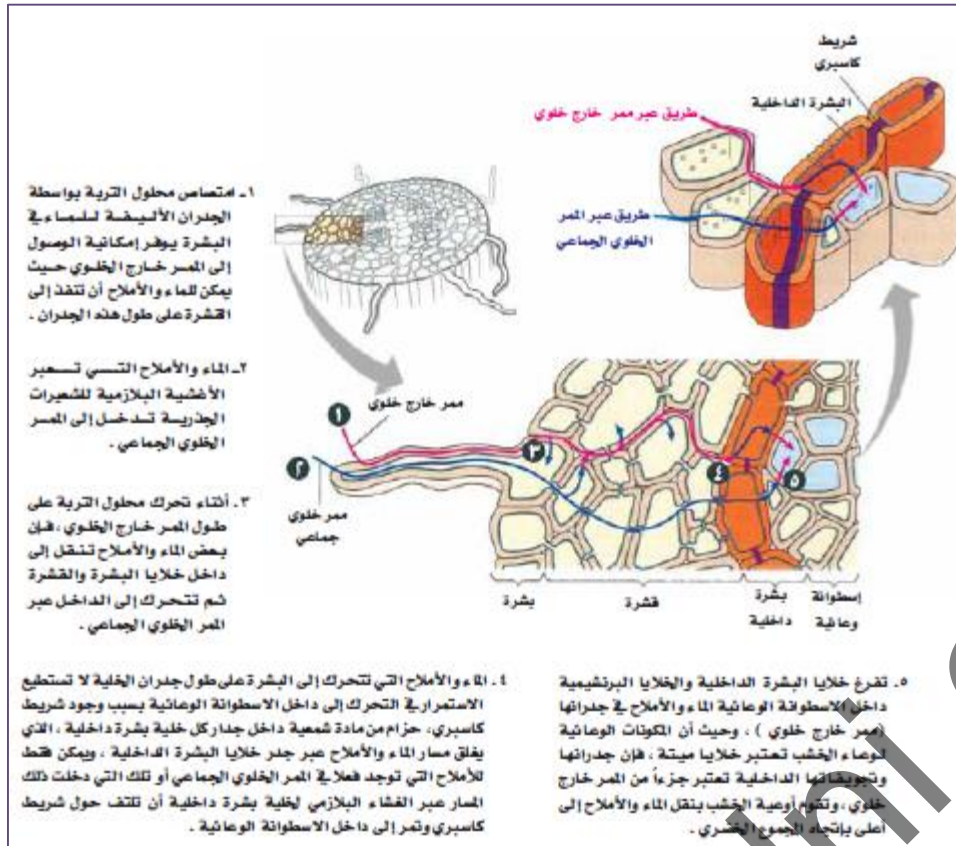
نقل الماء والأملاح جانبياً في الجذر : Lateral Transport of water and Minerals in root

يتم نقل الماء والأملاح من خلايا البشرة في الجذر إلى أوعية الخشب، فيما يسمى بالنقل الجانبي، من خلال ثلاث ممرات:

ج) الممر خارج الخلوي، وهو ممر يقع خارج الخلايا ويتكون من جدر خلايا البشرة والقشرة.

ب) الممر الخلوي الجماعي، بعد دخول الماء والأملاح إلى أول خلية فإنها قد تنتقل للخلية المجاورة عن طريق الروابط البلازمية.

أ) ممر عبر أغشية بلازمية، وفيه ينتقل الماء والأملاح الذائبة من خلية لأخرى عبر الجدر الخلوي والأغشية البلازمية.



٣-٦ نقل الماء والأملاح من الجذر إلى الورقة

Transport of water and minerals to the leaf

كيف تفسر صعود الماء والأملاح إلى قمة شجرة ؟

يمكن تفسير صعود الماء والأملاح داخل الأوعية الخشبية بسيقان النبات على أنه محصلة لمجموعة من القوى أو الآليات التي تعمل على دفع العصارة من أسفل لأعلى، أو تعمل على سحبها من أعلى في اتجاه يعاكس الجاذبية الأرضية. ومن أهم الآليات التي تفسر صعود الماء والأملاح من الجذر إلى الأوراق:

ب- الضغط الجذري Root Pressure	أ- الخاصية الشعرية Capillary Action
<p>ما هو الضغط الجذري في الماء ؟</p> <p>يعرف الضغط الجذري على أنه الضغط الأسموزي في خلايا الجذر الذي يسبب ارتفاع العصارة عبر ساق النبات إلى الأوراق.</p> <p>كيف تتم هذه العملية في النبات ؟</p> <p>عندما تتباطأ عملية النتج ليلاً، تستمر خلايا الجذر في ضخ الأملاح إلى الخشب، وتعمل خلايا البشرة الداخلية على منع عودة الأملاح إلى خارج الأسطوانة الوعائية مما يؤدي إلى تراكم الأملاح داخل الاسطوانة فتولد قوة تدفع الماء مسافة قصيرة إلى أعلى.</p> <p>ويمكن ملاحظة اندفاع عصارة الخشب - بفعل الضغط الجذري - من ساق نبات قطع حديثاً أو من الجروح والثقوب التي تتعرض لها النباتات.</p> <p>كيف يمكن قياس الضغط الجذري للنبات ؟</p> <p>ويمكن قياس مقدار الضغط الجذري لأغلب النباتات باستعمال مقياس الضغط الجذري المانوميتر، وتقدر قوة الضغط الجذري في كثير من النباتات بما يعادل درجتين من الضغط الجوي.</p> <p>إلا أنه لا يمكن تفسير صعود الماء والأملاح إلى ارتفاعات شاهقة على أساس الضغط الجذري كما أن الضغط الجذري يكون منخفضاً جداً تقريباً في بعض النباتات كالنباتات عارية البذور، كما أن قوة الدفع بالضغط الجذري تتأثر بسرعة العوامل الخارجية.</p>	<p>ما هي الخاصية الشعرية في الماء ؟</p> <p>الماء يرتفع في الأنابيب الضيقة بالخاصية الشعرية، وحيث إن الخشب يتكون من أنابيب ضيقة، فإن عصارة الخشب (الماء والأملاح) قد تنتقل بهذه الخاصية ولكن إرتفاع محدود أي أن هذه الخاصية لا تفسر صعود العصارة إلى ارتفاعات شاهقة.</p>

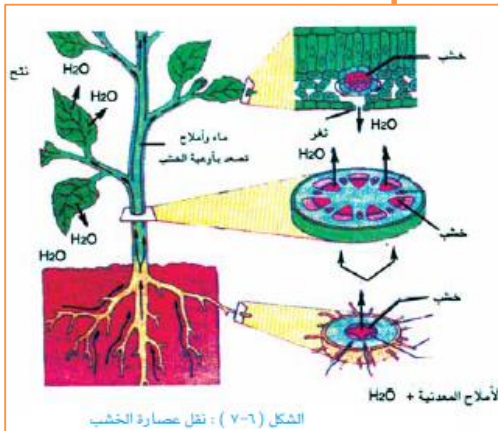
ج- التماسك والتلاصق قوة الشد الناتجة عن النتح Transpiration-Tension Cohesion-Tension

كيف استفاد العالمان ديكسون وجولي من خاصية التماسك والتلاصق في الماء ؟
قد استفاد العالمان ديكسون وجولي من دراسة هذه الخاصية في صياغة فرضية تفسر انتقال عصارة الخشب من الجذر إلى الأوراق عبر الساق وتعرف بالتماسك والتلاصق. وترجع أهمية هذه النظرية إلى أنها أثبتت أن الماء يسحب من قبل الورقة نتيجة استهلاك الماء في عمليات الأيض وخروجه عن طريق النتح من خلال الثغور وأن ليس هناك ضرورة لأن يقوم الجذر بعملية الدفع للماء من أعلى.

كلما تبخر الماء من ثغور الورقة فإن ذلك يؤدي إلى انخفاض الضغط في نسيج الورقة، ولمعادلة الضغط يتحرك الماء الموجود بنسيج الخشب في الساق إلى الورقة، وهذا بدوره يسبب ضغطاً منخفضاً في خشب الساق فيتحرك الماء من خشب الجذر لمعادلته.

كيف تتم قوة السجفي النبات ؟

وتتحرك قوة السحب الناتجة عن النتح خلال سلسلة مستمرة من جزيئات الماء في الخشب من الأوراق إلى الساق إلى الجذور وترتبط جزيئات الماء تلك بعضها ببعضاً بواسطة قوة التماسك الناتجة عن الرابطة الهيدروجينية بين جزيئات الماء، وهناك قوة أخرى تعرف بقوة التلاصق وهي التصاق جزيئات الماء بجدران الأوعية الخشبية الناقلة وبالتالي يطلق على نقل الماء من الجذر إلى الورقة بالنقل السلبي لأنه يتم عكس الجاذبية الأرضية.



آوية فتح وإغلاق الثغور The mechanism of stomatal opening and closing

ما آوية فتح وإغلاق الثغور؟

- يحاط الثغر بخليتين حارستين، تحتوي جدرهما على ألياف دقيقة من السليلوز مرتبة ترتيباً قطرياً، ويبرز جدار الخليتين الحارستين للخارج عند دخول الماء إليهما ويفتح الثغر،

- و عند خروجه فإن الخليتين الحارستين تنكمشان ويغلق الثغر. وتتم هذه العملية حسب الخاصية الأسموزية.

ماهو العامل المسبب لتغير ضغط الامتلاء في الخليتين الحارستين؟

هو دخول أيونات K^+ ، H^+ وخروجهما

ماذا يحدث عند دخول أيونات K^+ ؟

فعند دخول أيونات من K^+ بعملية النقل النشط إلى داخل الخليتين الحارستين، يزداد الضغط الأسموزي نتيجة لفرق التركيز الخليتين الحارستين بين داخل وخارج الغشاء الخلوي لهما، وهذا يؤدي إلى دخول الماء إليهما فيفتح الثغر،

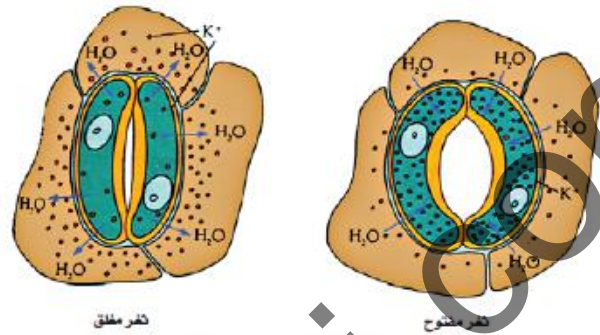
ماذا يحدث عند خروج أيونات K^+ ؟

أما عند خروج أيونات K^+ من الخليتين الحارستين فإن ضغطهما الأسموزي يقل فيخرج منهما الماء ويغلق الثغر.

، ويرافق عملية ضخ K^+ إلى داخل الخلية ضخ أيونات H^+ خارج الخلية، وتنتج أيونات H^+ من تحلل الأحماض العضوية.

معلومات نعملك

الإدماع *Guttation*: هو عملية فقدان النبات للماء على شكل سائل عن طريق فتحات خاصة تسمى فتحات الإدماع تظهر على النهايات الورقية وهي تحدث ليلاً.



الشكل (٩٠٦) - آوية فتح وإغلاق الثغور.

٤-٦ نقل الغذاء الجاهز في النبات Food Transport

كيف يتم نقل الغذاء الجاهز في النبات ؟

الغذاء الجاهز ينتقل عبر الأنابيب الغربالية إلى كل الخلايا التي تحتاج إليه في الأوراق نفسها والبراعم والأزهار والسيقان والجذور في كل اتجاه.

وينتقل الغذاء الجاهز داخل اللحاء على النحو الآتي:

- الكربوهيدرات تنتقل على شكل سكروز، ويشكل هذا نسبة ٩٥% من المواد المنقولة.
- البروتينات تنتقل على شكل أحماض أمينية.
- الجهون تنتقل على شكل جليسرول وأحماض دهنية.

ولكن ما هبة الآلية التي يتم بها النقل في اللحاء؟

تنتقل السكريات من منطقة بالنبات تسمى المنبع إلى منقطة تسمى المصب،

ما هو المنبع ؟

عبارة عن جزء من النبات (أوراق وسيقان) حيث تنتج السكريات عن طريق عملية التمثيل الضوئي أو بتكسر النشا،

ما هو المصب ؟

المصب فهو جزء من النبات حيث تستهلك السكريات أو يتم تخزينها، فأوراق النبات مثال على منابع أما الجذور فهي مثال على مصاب.

من الفرضيات الأكثر قبولاً لتفسير آلية النقل في اللحاء فرضية تدفق الضغط التي وضعها العالم الألماني منخ عام ١٩٣٠م، وتعتمد هذه الفرضية على وجود منحدر تدرج في ضغط الامتلاء بين أنسجة المنبع وأنسج المصب.

لماذا تم انتقدت هذه الفرضية ؟

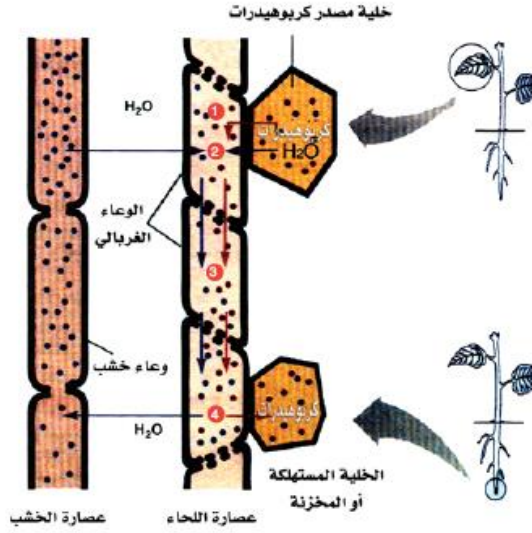
على أساس أنها تثبت الانتقال في اتجاه واحد فقط خلال اللحاء مع العلم بأن انتقال بعض المواد قد يتم باتجاهين متضاربين من وقت لآخر، الذي أدى إلى ظهور نظرية الحركة السيتوبلازمية.

— عند نقل المواد في اللحاء، أي العمليات يتم دون طاقة وأيها يلزمها طاقة ؟

إجابة اختبر فهمك (٢)

لا تلزم الطاقة لعملية النقل داخل الأنيوب الغريالي، أما عملينا التحميل والتفريغ للسكروز فتلزمها طاقة.

- ١- تنتقل المواد الغذائية (السكروز) بانتمقل الششع من خلية المنبع إلى الوعاء الغريالي .
- ٢- بسبب التركيز العالي للسكروز في اللحاء، يدخل الماء بالانتشار إلى الوعاء الغريالي مسببا ارتفاعا في ضغط الامتلاء .
- ٣- بسبب ضغط الامتلاء جريان محلول السغذاء (السكروز) خلال نسج اللحاء .
- ٤- ينتمقل السكروز خارج نسج اللحاء إلى الخلية المستهلكة أو المخزنة بالانتشار أو الإغزلة لسغذاء، ويخرج الماء بالانتشار إلى نسج الخشب ويسقل ضغط الامتلاء في اللحاء .



الشكل (٦-١٠) : آلية فرضية تدفق الضغط

٦-٥ تكيف النبات للحصول على حاجاته

تكيف النبات لنقص الماء في بيئته :

ما فائدة عملية النتج في النبات ؟

تعتبر عملية النتج مفيدة للنبات حيث إنها تجعل الماء ينتقل في أوعية الخشب، ولكن إذا فقدت الأوراق الكثير من الماء فإن الجذور ربما لا تتمكن من امتصاص الكمية الكافية التي تعوضه وإذا حدث ذلك فإنه يؤدي إلى ذبول النبات.

كف يقور النبات بءقلل معدل الفقد عن
طربق النءء؟

- ءقلل مساحة السءء، فأوراق نباتاء الصبار لها مساحة سءء صغفراء ءساعد على الاءءفاظ بالماء من ءلال ءبءر كمبءة أقل منه.

- ءفور على الجائب السفلب من الورقة، ءبء إءه فب معظم الأوراق فبء عدد أكبر من ءفور فب السءء السفلب للورقة مقارءة بالسءء العلوب الأمر اللب فبء السءء السفلب أبءء بالءالب أقل ءبءر للماء.

- وءوء شعبراء على الأوراق، ءبء ءءءء الشعبراء طبقة من الهواء الرطب بالءرب من الورقة.

- وءوء طبقة الكببءكل، وهب طبقة شمعبء ءفلب العءبء من أوراق النباتاء وهب ءصنع بواءة ءلافا البشرة الءارءبء.

- ءلق ءفور، من المءور أن النبات فبقد معظم الماء عبر ءفور وإن ءر إءلاقها فبء ذلك سبؤءب إلى إبطاء عملبء النءء، وقء ءر ءءرق إلى ءءء وإءلاق ءفور سابعاً.



ومن ءءكفبء الأءرى للنباب للعبء فب ببءة نقص الماء:
- انءفاء السبقان والقءرة على ءءربن الماء والغءاء.
- ءءور الأوراق إلى أشواءك.
- وءوء مءموع ءءربب ءو كفابء عاببء فب امءصاص الماء.

كيف انبات نقص النيتروجين في التربة

ماذا يحدث عند نقص النيتروجين في التربة؟

تحتاج النباتات النيتروجين كمكون للبروتينات والأحماض النووية وجزيئات عضوية هامة أخرى، وقد يستغرب أن النبات يمكن أن يعاني من نقص النيتروجين رغم أن ٧٨% من الغلاف الجوي عبارة عن نيتروجين، ولكن الملاحظ أن النيتروجين الموجود في الغلاف الجوي يكون في الحالة الغازية وبالتالي لا تستطيع النباتات الاستفادة منه واستخدامه، فالنباتات حتى تمتص النيتروجين فإنه يجب أن يحول إلى أمونيوم NH_4^+ أو نترات NO_3^- وعلى الرغم من أن هذه المعادن موجودة في التربة إلا أنها ليست مشتقة من تحلل الصخور ولكنها منتجة من النيتروجين الموجود في الغلاف الجوي وقبل كل شيء عن طريق أنواع من البكتيريا التي تعيش في التربة وعن طريق وعن طريق الميكروبات التي تحلل الدبال.

فإذن كيف يعرض النبات النقص في النيتروجين؟

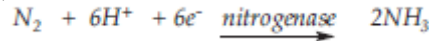
معلومات مهمة

إذا لم تمتص النبات عناصر معدنية تكفيه مثل النترات المحتوية على النيتروجين فإن نموه سيتوقف وتزول ألوان أوراقه.

تثبيت النيتروجين Nitrogen Fixation

كيف يتم تثبيت النيتروجين ؟

تعيش في التربة أجناس عديدة من البكتيريا التي تحتو على انزيم تثبت النتروجين الذي يحدده بقده باختزال النيتروجين الغازي عن طريق إضافة أيونات هيدروجين والكترونات ليتكوّن

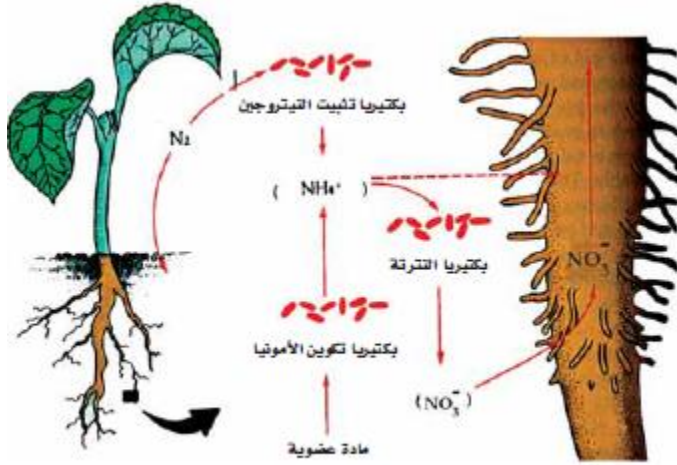


العملية السابقة يطلق عليها تثبيت النيتروجين وهي عملية مستهلكة للطاقة إذ يلزم على الأقل ١٢ جزيء ATP لكل جزيء أمونيا.

وتكون عملية تثبيت النيتروجين أكثر وفرة في التربة الغنية بالمادة العضوية إذ توفر الوقود للتنفس الخلوي.

ماذا يحمل محلول التربة ؟

يحمل الأمونيا أيون هيدروجين آخر ليشكل الأمونيوم الذي يستطيع النبات امتصاصه، وعلى الرغم من ذلك يحصل النبات على حاجته من النيتروجين في صورة نترات والذي ينتج في التربة بواسطة بكتيريا تقوم بأكسدة الأمونيوم وبعد أن تمتص النترات عن طريق الجذور فإن معظمها ينتقل بواسطة الخشب إلى الأوراق التي تستخدمها في صناعة البروتين حيث يتم اختزال معظمه إلى الأمونيوم بواسطة الإنزيم المختزل للنترات وإنزيمات أخرى، حيث يستطيع النبات بعد ذلك استخدام الأمونيوم في صنع الأحماض الأمينية.



الشكل (٦-١٣): عملية تمثيل النيتروجين بواسطة النبات

